

Je m'appelle : .....

Date : .....

Evaluation de mathématiques : résolution de problèmes et géométrie  
CP – Période 2

Compétence : je sais utiliser mes connaissances numériques sur la monnaie

❖ Entoure les pièces pour acheter la voiture :



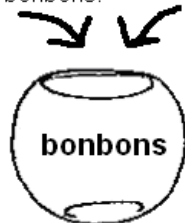
❖ Entoure les pièces ou billet pour acheter la poupée :



Compétence : je sais utiliser des procédures personnelles de résolution de problèmes additifs ou soustractifs

❖ Combien y-a-t-il de bonbons dans le bocal ?

Léa met 4 bonbons. Paul met 3 bonbons.



Le bocal est vide.

Il y a ..... bonbons.

❖ Combien reste-t-il de bonbons dans le bocal ?

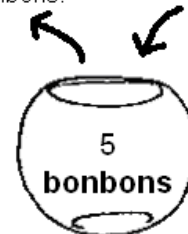
Tom prend 4 bonbons. Théo prend 1 bonbon.



Il y a 6 bonbons.

Il reste ..... bonbons.

Tina prend 3 bonbons. Lise met 5 bonbons.



Il y a 5 bonbons.

Il reste ..... bonbons.

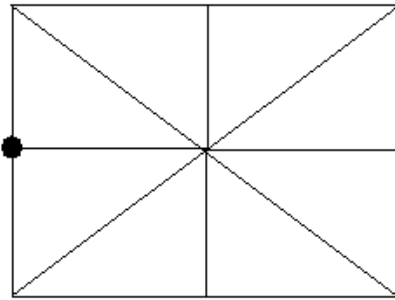
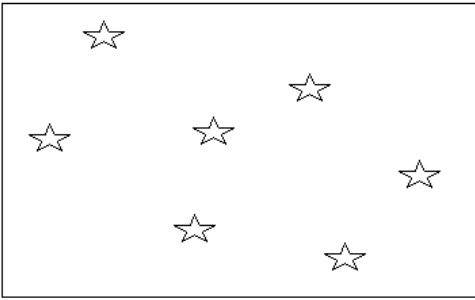
Je m'appelle : .....

Date : .....

Compétence : je sais vérifier que des points sont alignés / je sais aligner un point ou un objet avec d'autres

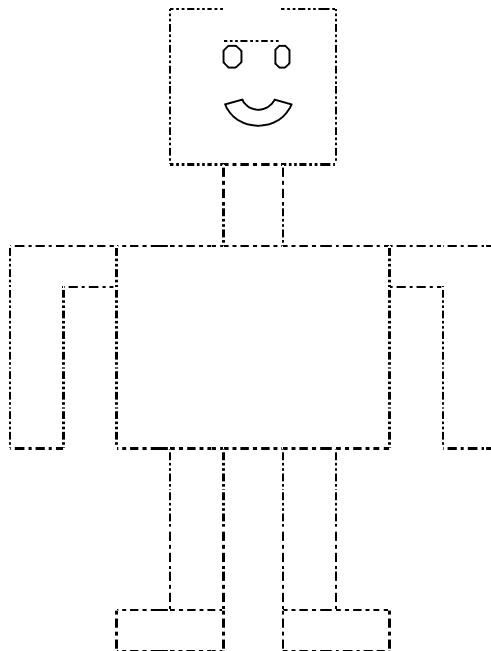
❖ Trouve les trois étoiles alignées

Dessine 2 autres pions alignés avec le pion



Compétence : je sais tracer des droites et utiliser une règle

❖ Repasse sur les traits en pointillés avec ta règle et ton crayon de papier.



Compétence : je sais différencier des solides

❖ Ecris le numéro des solides utilisés pour faire cette figure

